


التاريخ: / /

# الأشكال الهندسية



المربع:




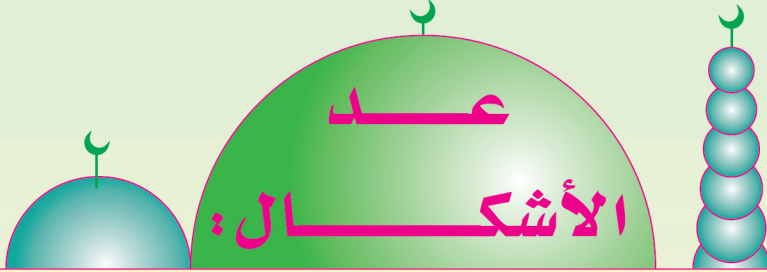
الدائرة:



المستطيل:



المثلث:



عدد المستطيلات = .....

عدد المربعات = .....

عدد الدوائر = .....

عدد المثلثات = .....

عدد المثلثات والمستطيلات = .....

عدد المربعات والدوائر = .....

= ..... + .....

= ..... + .....